





Die Uhr


Lese die Uhrzeit ab und schreibe sie auf (siehe Beispiel):




Es ist 3 Uhr.




Es ist Viertel vor 12.




Es ist 6 Uhr.




Es ist Viertel nach 3.




Es ist halb 10 Uhr.




Es ist halb 8.




Es ist halb 3 Uhr.



Es ist 10 nach 10.



Es ist Viertel vor 11.



Es ist Viertel nach 4.